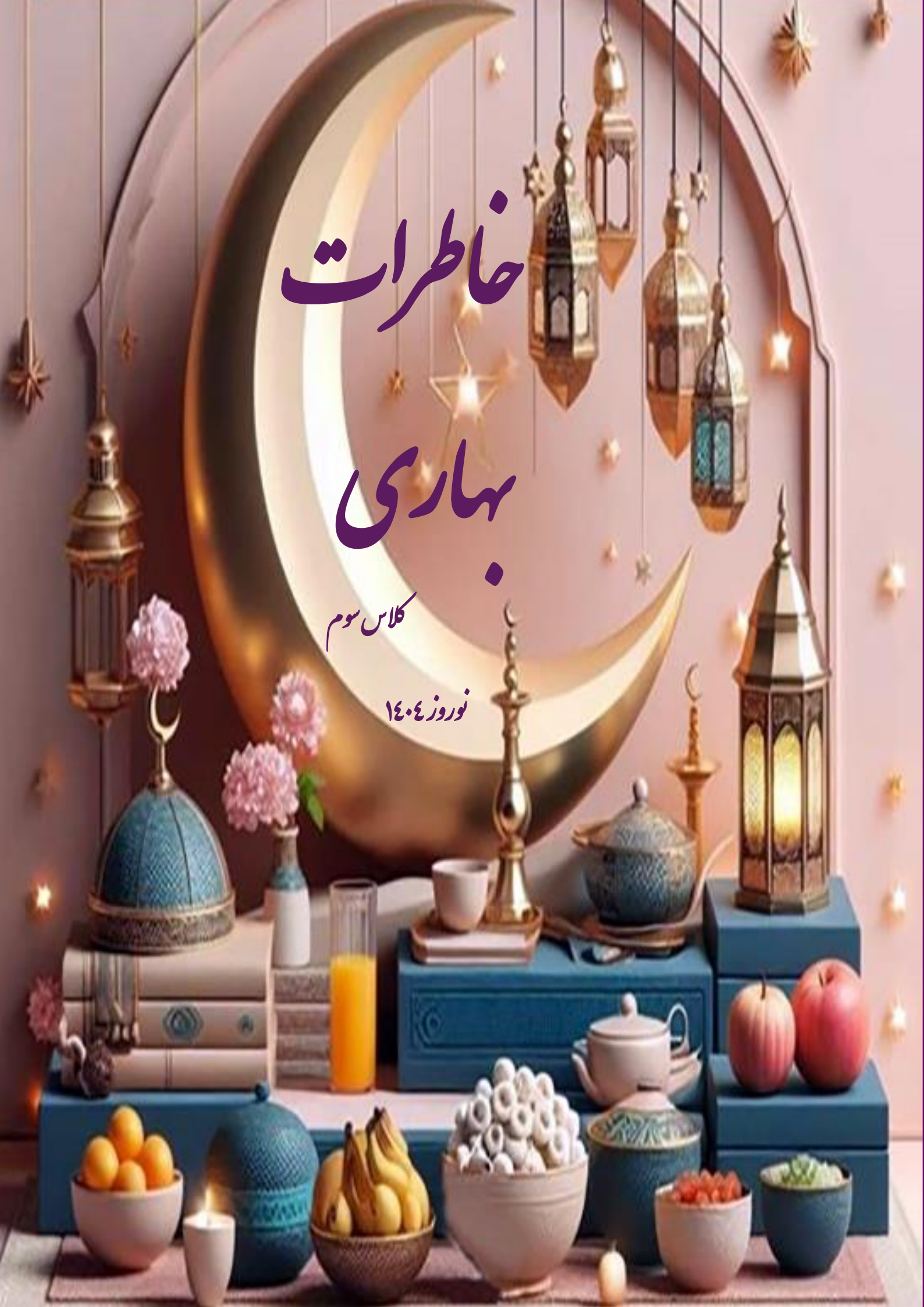


خاطرات

بهاری

کلاس سوم

نوروز ۱۴۰۴



نامه ای به خودم ...

من بهت افتخار می کنم که تا اینجا جلو اومدی، ادامه بده ...



باسلامی به طراوت نسیم بهاری و گرمای دل های مهربان و لبخند قلب های پر از شور و شوق

شما گل های باغ زندگی.

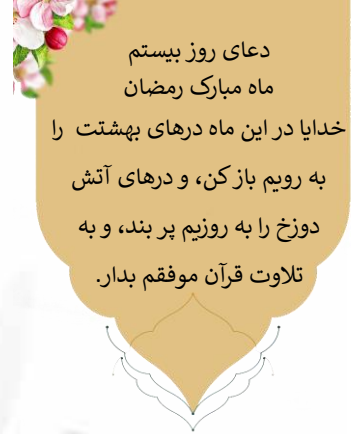
با خوبی ها و بدی ها و هر آنچه که بود برگ دیگری از زمان ورق خورد و حالا برگی نو و سالی نو...

از اعناق و جودمان، بادی آکنده از مهر از خدای خوبان می خواهیم، یاریان کند تا در این

سال نو باغبانی سایه برای شما گل های بهشتی باشیم.

پس بدان بهترین ها و زیباترین ها در انتظار توست، فصل جدید از کتاب زندگی را با امید و

تلاش فراوان و توکل به خدا شروع کن.



دعای روز بیستم
ماه مبارک رمضان
خدایا در این ماه درهای بهشت را
به رویم باز کن، و درهای آتش
دوزخ را به روزیم پر بند، و به
تلاوت قرآن موفقم بدار.

نوری از سوی خدا

پیامبر رحمت (ص): کسی که در ماه رمضان آیه ای از کتاب خداوند را بخواند همانند کسی است که در ماه های دیگر قرآن

فعالیت عیدانه قرآنی:

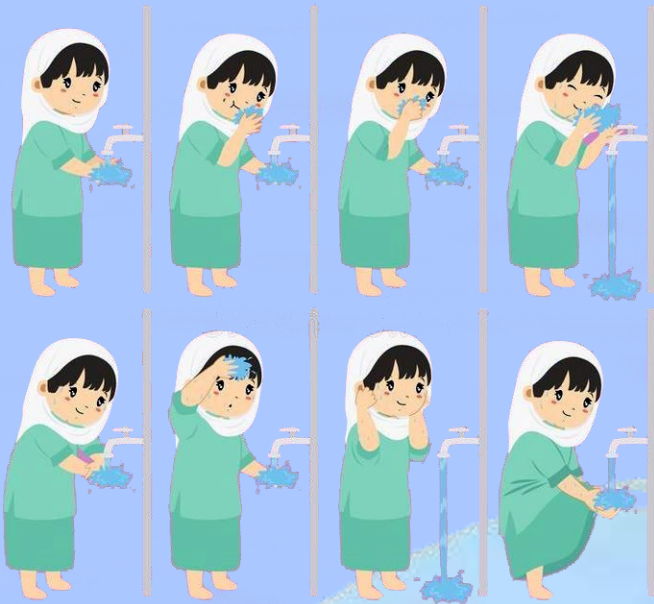
نوکلان قرآنی اگر دوست دارید ثواب ختم کامل قرآن را بسپرد هر روز یک سوره کوچک قرآنی را بخوانید و برای بنده

صوت آن را بفرستید.

شروع از جمعه: اول فروردین (۲۰ رمضان)



«نماز ستون دین است»



دختر کلم برای شکر از این همه نعمت که خداوند به ما عطا نموده
باید شکر گزار نعمت هایش باشیم پس به دگاه خداوند نماز بخوان و
در جدول نماز علامت بزنی.

روزهای هفته	نماز صبح	نماز ظهر	نماز مغرب و عشاء	نیاز مندرج تلاش
شنبه				
یکشنبه				
دوشنبه				
سه شنبه				
چهارشنبه				
پنجشنبه				
جمعه				





دعای روز بیست و یکم
ماه مبارک رمضان
خدایا در این ماه برای من به سوی
خشنودی ات دلیلی قرار مده، و
برای شیطان راهی به سوی من قرار
مده.

فرشته ی روزه اولی من

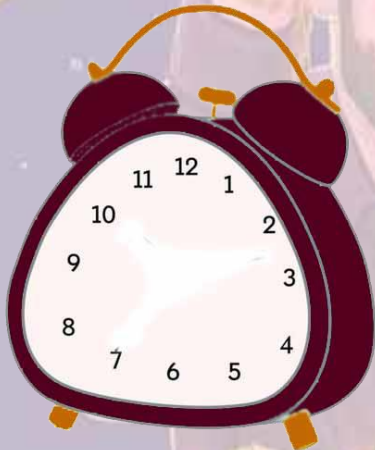
زمان تحویل سال را روی ساعت رو

به رو نشان، و به سوال های زیر پاسخ دهید.

✿ ساعت قبل از ظهر و بعد از ظهرش را بنویسید.

✿ حالا ۹۵ دقیقه ی قبل را نشان دهید.

✿ دخترم بگو ۱۸۰ دقیقه ی بعد عقربه ها چه ساعتی را نشان می دهند.



دخترم! معنای دعایی که در هنگام تحویل سال می خوانند را بنویس.

.....

.....



امام مهربان شیعیان

بچه های عزیز امام علی (ع) امام اول ما مسلمانان است که بسیار مهربان و با گذشت بودند که در ۲۱ ماه رمضان به شهادت رسیدند. یکی بود یکی نبود، غیر از خدای مهربان هیچ کس نبود. حضرت محمد (ص) آخرین پیامبر ما بودند که دختری به نام حضرت فاطمه (س) داشتند، وقتی حضرت فاطمه بزرگ شدند، امام علی (ع) که پسر عموی پیامبر بود، از ایشان خواستگاری کردند و با هم ازدواج نمودند. امام علی (ع) امام اول ما مسلمانان است و مانند پیامبر بسیار مهربان بودند. امام علی (ع) با همه کودکان به خصوص کودکان یتیم بسیار مهربان بودند و همه کودکان بی سرپرست شهر ایشان را می شناختند و پدر یتیمان می خواندند. امام علی (ع) شب ها که همه مردم در خواب بودند، مواد غذایی زیادی را در کیسه ای گذاشته و شبانه به در منزل افراد فقیر می برد تا در دل تاریک شب شناخته نشود. این امام شجاع و مهربان ما بسیار قوی بود و در جنگ ها با افراد بد می جنگیدند و آن ها را شکست می دادند. در یکی از جنگ ها به نام جنگ نهروان که یاران امام علی (ع) ستمگران رو شکست داده بودند، آن ها تصمیم گرفتند امام علی (ع) را به شهادت برسانند.

ابن ملجم مرادی یکی از آدم های بدی بود که پذیرفت امام علی (ع) را به شهادت برساند و به همین خاطر راهی کوفه شد. وقتی ابن ملجم به کوفه آمد، عاشق دختری به نام قطام شد و از او خواستگاری کرد. قطام که پدر و برادرش در جنگ نهروان کشته شده بودند، کینه امام علی (ع) را در دل داشت و به ابن ملجم گفت باید امام علی (ع) را به شهادت برسانی تا با تو ازدواج کنم، ابن ملجم هم پذیرفت و قرار شد زمانی که امام علی (ع) در حال نماز خواندن است، او را به شهادت برساند. امام علی (ع) صبح روز ۱۹ ماه رمضان برای خواندن نماز صبح به مسجد کوفه رفت، ابن ملجم نیز در مسجد حضور داشت و شمشیری را که به زهر آلوده کرده بود را زیر پیراهن خود پنهان نموده و در نزدیکی امام به نماز ایستاده بود.

هنگامی که امیرالمؤمنین سر از سجده اول برداشت، ابن ملجم با شمشیر ضربه ای به سر امام زد که تا پیشانی امام را شکافت. همه افراد حاضر در مسجد بسوی امیرالمؤمنین علی علیه السلام دویدند و سر امیرالمؤمنین را بستند.

امام علی (ع) دو روز در بستر بیماری بودند، در این دو روز وقتی کودکان یتیم فهمیدند که خوردن شیر برای امام علی (ع) مفید است، هر کدام کاسه ای از شیر به دست گرفته و به خانه امام علی (ع) می آمدند.

امام علی (ع) به فرزند خود امام حسن (ع) فرمودند که شیر را از کودکان بگیرد و برای من کاسه ای شیر بیاورد. شیر را آوردند و امام فرمود از این شیر برای ابن ملجم هم بپزید تا بنوشد و آنگاه سفارش ابن ملجم را به امام حسن (ع) نمودند تا همه ما بفهمیم چه امام مهربانی داشتیم. امام علی (ع) بعد از دو روز در ۲۱ ماه رمضان به شهادت رسیدند و همه ما مسلمانان در این روز برای امام خوب و مهربانمان که حتی با دشمن خود نیز مهربان بود عزاداری می کنیم.

بچه های عزیز ما باید از زندگی امامان بزرگمان درس های زیادی بگیریم و مانند امامان با یکدیگر مهربان باشیم. در روز شهادت امام اولمان با دست های کوچکتان دعا کنید و از خدا بخواهید مانند امام علی (ع) راه درست را انتخاب کنید.

حالا که داستان را خوب خواندید به سوالات زیر جواب دهید.

● چه کسی با شمشیر ضربه به سر امام علی (ع) وارد کرد؟

● در چه تاریخی و در چه مکانی امام علی (ع) به شهادت رسیدند؟

● عزیزم چه درسی از این داستان گرفته اید؟



دعای روز بیست و دوم
ماه مبارک رمضان
خدايا در این ماه درهای فضلت را
به روی من بگشا، و برکاتت را بر
من نازل فرما، و به موجبات
خشنودی ات موفقم بدار.



ضرب توپی

خانم دقیق یک بشقاب پلو خوری بردارید و با آن یک دایره بکشید.

مرکز دایره را مشخص کنید.

شعاع دایره و قطر آن را پیدا کنید و اندازه ی آن ها ر بنویسید.

دو دایره ی در آن با اندازه های کوچک رسم کنید تا یک صفحه دایره درست شود.


وسایل مورد نیاز:

مداد، کاغذ، توپ یا روزنامه ی مجاله شده ی شبیه توپ که روی ان عدد نوشته شده و صفحه دایره ای که شما درست کرده اید.


روش بازی:

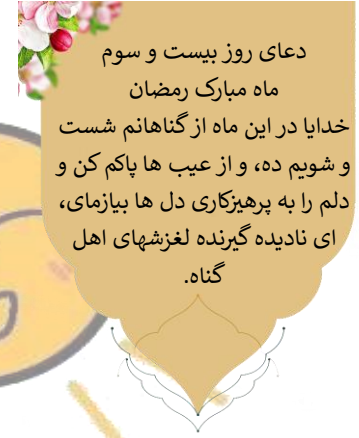
توپ ها را به سمت صفحه دایره ای پرتاب کنید، عدد روی توپ را در عدد قسمتی از دایره که توپ به آن برخورد کرده ضرب کنید. سپس همه ی عددها را با هم جمع بزنید. (هر مرحله شامل سه پرتاب است).

- بازی را در ۵ یا ۱۰ مرتبه انجام بدهید و هر بار امتیاز آن را ثبت کنید.
- جمع هر مرحله ۱۰۰ یا بیشتر باشد، یک امتیاز منصوب می شود. در این بازی گروهی کسی برنده است که بیشترین امتیاز را بدست آورد.



مرحله ی اول (جمع ۳ عدد اول)	<input type="text"/>	→ امتیاز	<input type="text"/>
مرحله ی دوم	<input type="text"/>	→ امتیاز	<input type="text"/>
مرحله ی سوم	<input type="text"/>	→ امتیاز	<input type="text"/>
مرحله ی چهارم	<input type="text"/>	→ امتیاز	<input type="text"/>
مرحله ی پنجم	<input type="text"/>	→ امتیاز	<input type="text"/>





دعای روز بیست و سوم
ماه مبارک رمضان
خدایا در این ماه از گناهانم شست
و شویم ده، و از عیب ها پاکم کن و
دلم را به پرهیزکاری دل ها بیازمای،
ای نادیده گیرنده لغزشهای اهل
گناه.

«لاک علط گسر»



روزه دار من با دقت از روی متن زیر بخوانید، کلمات اشتباه را پیدا و صحیح کلمه را زیر آن یادداشت کنید.

تابستان بود. امید و خوانواده اش طازه به این مهله آمده بود. او در کلاس سوم، سبط نام کرده بود، و هنوز به مهله ی جدید، آدت نکرده بود.

بوشتان، فزای سبز بسیار زیبایی داشت. در عنتهای آن، زمین فوتبالی دیده می شود.

امید، خاترات طیم فوتبال مهله ی قبلی خد را به یاد آورد.

در این لحظه، پدرش گفت: اگر بخواهید، او می تواند توی دریازه بایستد.



در یک صوی میدان، مسجد بزرگی دیده می شود. گمبد فیروزه ای و گلدسته های بلند آن، آزمت خاصی

داشت.

مانند نمونه کامل کنید:

او در آشپزخانه غذایش را خورد.

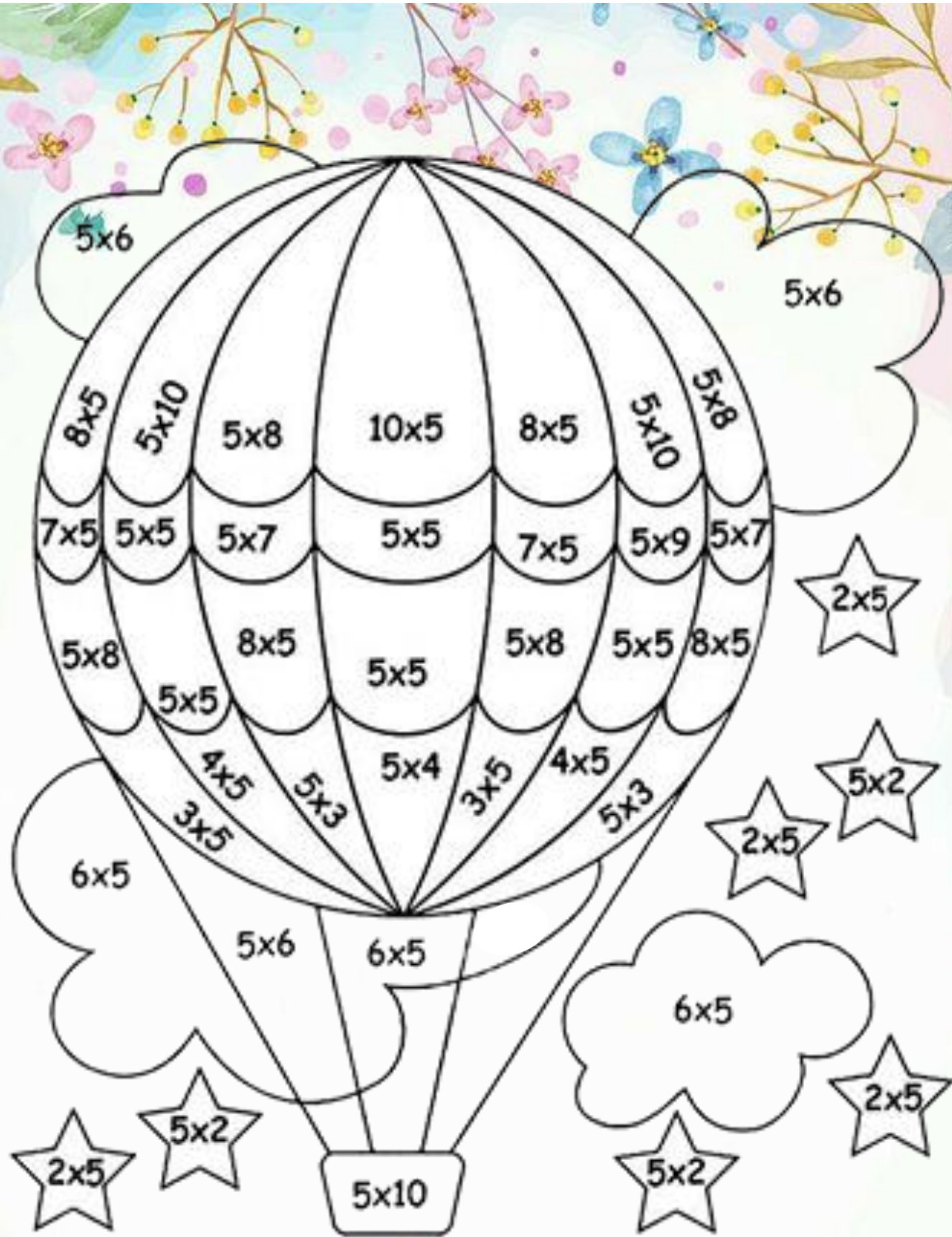
من در آشپزخانه

در آشپزخانه غذایشان را خوردند.

در آشپزخانه غذایت را

دخترم ضرب المثل این تصویر را بنویسید:





10



15



20



25



30



35



40



45



50




دعای روز بیست و چهارم
ماه مبارک رمضان
خدایا مرا در این ماه آنچه تو را
خشنود می کند از تو درخواست
می کنم، و از آنچه تو را ناخشنود
می کند به تو پناه می آورم
ای بخشنده به
نبازمندان.

ریاضی شکلاتی

دخترم برای ضرب زیر یک مسئله ی ضرب و یک مسئله ی تقسیم بنویسید. با استفاده از کاغذ شکلات هایی که در این ایام

میل کردید دسته بندی کنید.




$$۳ \times ۴ =$$

$$\dots \div \dots =$$

★ مسئله ی ضرب:

★ مسئله ی تقسیم:





عزیزم از درس ۱ و ۲ فارسی را مطالعه کنید و از هر درس یک بند با خط زیبا بنویسید.

✿ برای هر کدام از کلمات زیر دو هم خانواده بنویس.

غذا:

منظر:

صورت:

حرکت:



دعای روز بیست و پنجم
 ماه مبارک رمضان
 خدایا من را در این ماه دلپسته
 اولیاء و دشمن دشمنانت قرار ده،
 و آراسته با راه و روش خاتم
 پیامبرانت گردان،
 ای نگهدارنده
 دلهای پیامبران.

«یک روز شیرین»



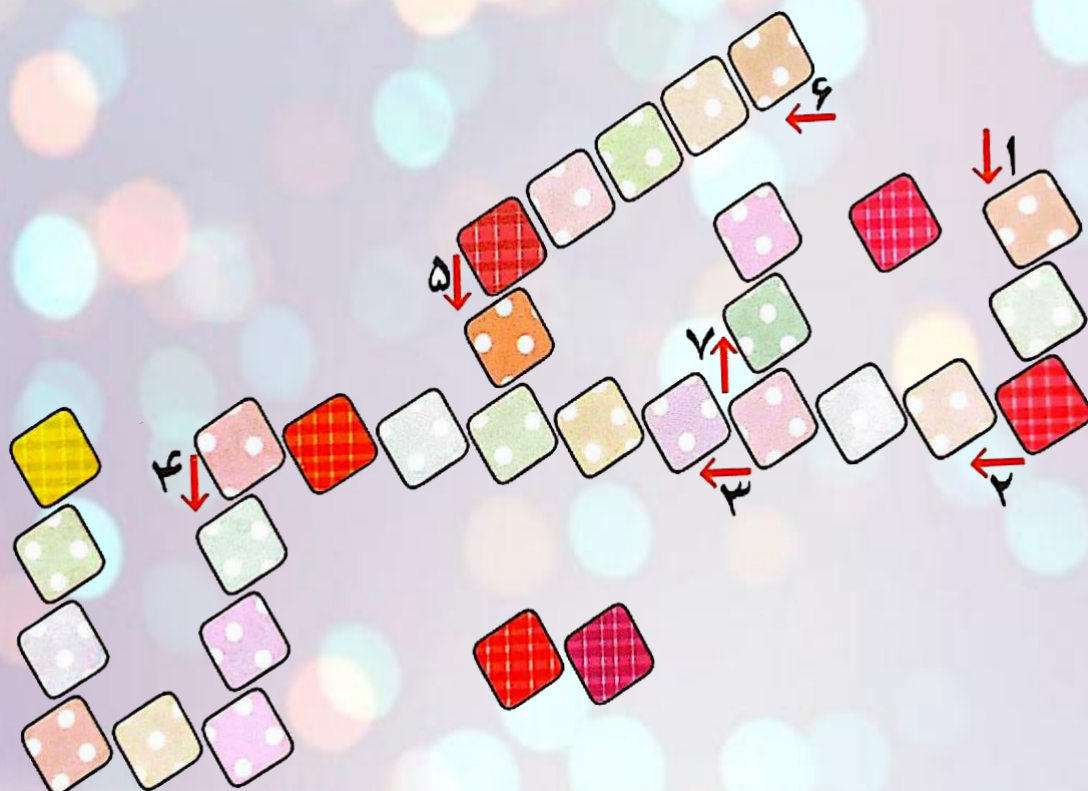
به وسیله ای با آن میخ را از تخته بیرون می کشند می گویند.

• بارکش یعنی

۲- نویسنده ی محترم به ما بگو برای نوشتن یک بند چه چیزی اهمیت دارد؟ (به صفحه ۴۵ کتاب نگارش مراجعه کنید)

۳- جدول زیر را کامل کنید.

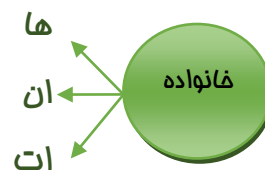
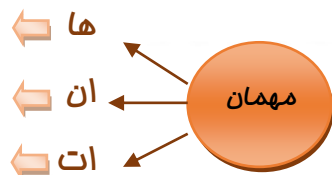
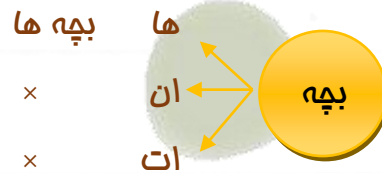
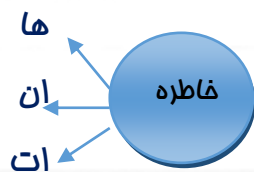
- ۱- زِ مخفف چه کلمه ای است؟
- ۲- دانه ی جوز در زمین می کاشت که به فصل بهار شود.
- ۳- نام کوچک دختر ۱۲ ساله ای که در مهرماه ۱۳۵۹ به شهادت رسید چه بود؟
- ۴- نام شعری مجید ملا محمدی سروده است چیست؟
- ۵- ت..... میلی / اشغ...ل.
- ۶- پنجره های غبار آلود را/..... می دادیم و می شستیم زود.
- ۷- زمین بی پایان.



«دقت پدر دقتری»

دخترم به پدر خود از درس ۳ و ۴ یک دقت بگو.

دخترم مانند نمونه کامل کنید.



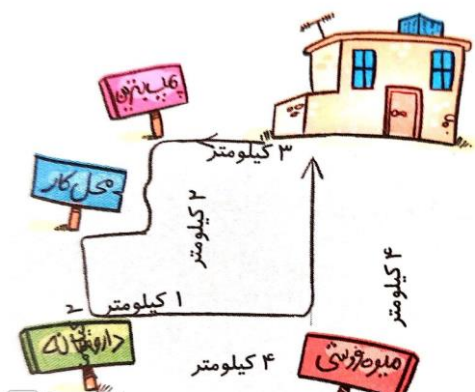


«مولتی ریاضی»

دعای روز بیست و ششم
ماه مبارک رمضان
خدایا کوششم را در این ماه مورد
سپاس، و گناهم را آمرزیده، و
عملم را پذیرفته، و عیبم را
پوشیده قرار ده، ای شنواترین
شنوایان.

۱- پدر ستاره با اتومبیل از خانه خارج شد و ابتدا به پمپ بنزین رفت و بنزین زد، سپس به محل کار خود رفت. بعد از پایان ساعت کار، او ابتدا به داروخانه و سپس به میوه فروشی رفت. به خانه بازگشت. با توجه به فاصله های داده شده به سوالات زیر پاسخ بده.

پدر ستاره برای رسیدن به هر کدام از مکان های زیر چند کیلومتر راه رفته است؟



از منزل به پمپ بنزین:.....

از پمپ بنزین به محل کار:.....

از داروخانه به میوه فروشی:.....

از میوه فروشی به خانه:.....

۲- پدر نرگس ۵۸۰۰ گرم برنج و شکر برای تهیه ی شعله زرد در نوزدهم ماه مبارک رمضان خرید وزن برنج چند

کیلو و چند گرم است؟ (یک کیلو = ۱۰۰۰ گرم)





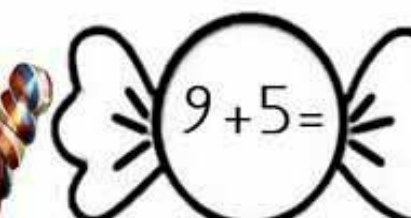
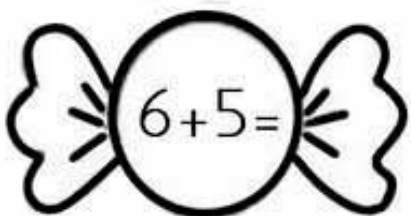
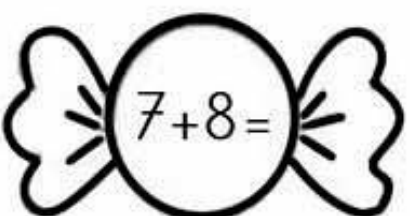
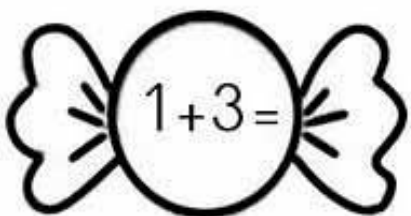
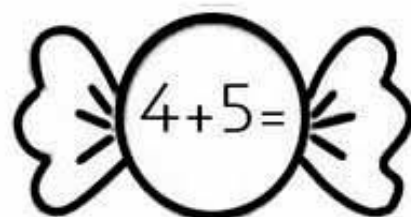
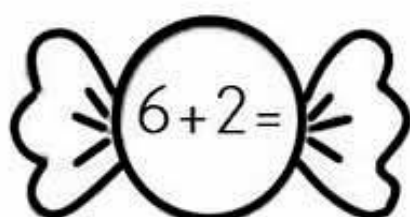
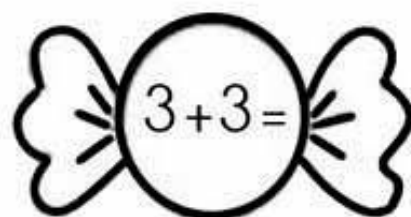
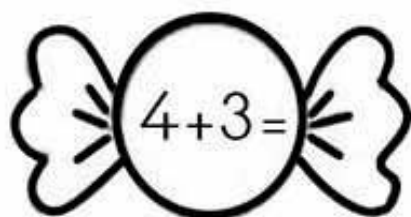
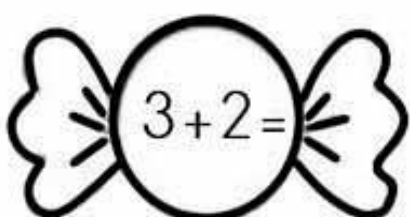
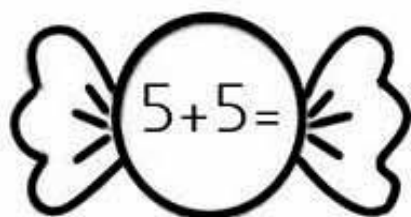
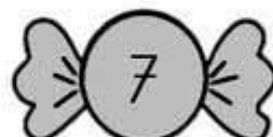
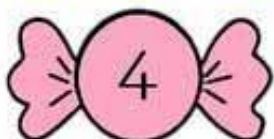
حکمت پند آموز:

امام علی (ع) درباره ی ویژگی های «دوست واقعی»

می فرمایند:

«دوست، برادر خود را هنگامی که دنیا به او پشت

کرده، فراموش نمی کند.»



دعای روز بیست و هفتم
 ماه مبارک رمضان
 خدایا در این ماه فضیلت شب
 قدر را روزی ام ساز، و کارهایم را
 از سختی به آسانی برگردان، و
 پوزش هایم را بپذیر، و گناه و بار
 گران را از گردنم بریز، ای
 مهربان به بندگان
 شایسته.



« حساب و کتاب »

۱- اگر برای دوخت هر شلوار یک زیپ و دو دکمه استفاده کنیم برای دوخت سه جین ۶ تایی شلوار چند زیپ و چند دکمه استفاده می شود؟

- الف) ۶ زیپ - ۱۲ دکمه
 ب) ۳۶ زیپ - ۷۲ دکمه
 ج) ۱۲ زیپ - ۶ دکمه
 د) ۱۸ زیپ - ۳۶ دکمه

۲-

۶ هزارتایی و ۹ یکی و ۳ ده تایی یعنی

هزارتایی	صدتایی	ده تایی	یکی

به حروف:


به عدد:

۳- اگر شعاع دایره ای ۵ سانتی متر باشد، قطر آن چند سانتی متر است؟

۴- دخترم عدد مناسب جای خالی رو به رو چیست؟

$$(49 \div 7) \times 3 = 1 \times \dots\dots$$

کارگاه خیاط باشی



سلام خانم روزه دار:

به الگویی که در صفحه روبرو است خوب نگاه کنید. با توجه به اندازه ی واحد سطح بالا صفحه اندازه واحد هر سطح را به دست آورید.

اندازه هایی که در الگو مشاهده می کنید را تبدیل کنید.

میلی متر ← سانتی متر.

سانتی متر ← میلی متر.

هنرمند من با این لوازم عروسک را درست کن و یک نام زیبا برای آن انتخاب کنید.

لوازم مورد نیاز:

الیاف

نمد رنگی بدن (کیرم)

دکمه مشکی (برای چشم)

نخ قرمز (برای لب)

نمد سفید (یقه لباس)

نمد رنگی (برای لباس)

کاموا (برای مو)

پارچه (چادر)

چوب بستنی (وصل سر به بدن)

نخ محکم (برای دوخت)



دعای روز بیست و هشتم
ماه مبارک رمضان
خدایا بهره ام را در این ماه از
مستحبات فراوان کن، و مرا با
تحقق درخواست ها اکرام فرما، و
از میان وسایل وسیله ام را به
سویت نزدیک کن.



نهم فروردین
۲۸ ماه رمضان

«مولتی ریاضی»


۱- سارا برای مسافرت به کشور شنگولستان رفت یک دلار در آن جا ۲۲۰۰ تومان است.
اگر قیمت یک دامن ۲ دلار باشد سارا برای دو دامن چند دلار و چند تومان باید پردازد؟

دلار	
تومان	

.....

.....

۲- فاصله ی مغازه ی مش حسن تا خانه ۶۰۰۰ متر است. اگر او ۳۰۰۰ متر از مسیر را
پیموده باشد. چند متر دیگر باید برود تا به مغازه ی خود برسد؟ چند کیلومتر باید برود تا به مغازه
برسد؟



۳- دخترم در جای خالی عدد مناسب بگذارید.

● ۴۳۵ متر برابر است با متر و سانتی متر.

● ۹ کیلومتر چند متر است؟

● ۲ کیلوگرم و ۴۵۰ گرم یعنی گرم.



«دقت خلاقانه»

خانم کتاب خوان از درس پنجم و ششم یک دقت خلاقانه بنویسید.

Handwriting practice lines consisting of 12 sets of horizontal dashed lines for writing.



گل زیبا با توجه به تصویر بند زیر را کامل کنید. (بیشتر از سه خط)

«افطار»

امروز سفره افطار را همراه ...

.....

.....

.....

.....

.....

.....

.....

.....

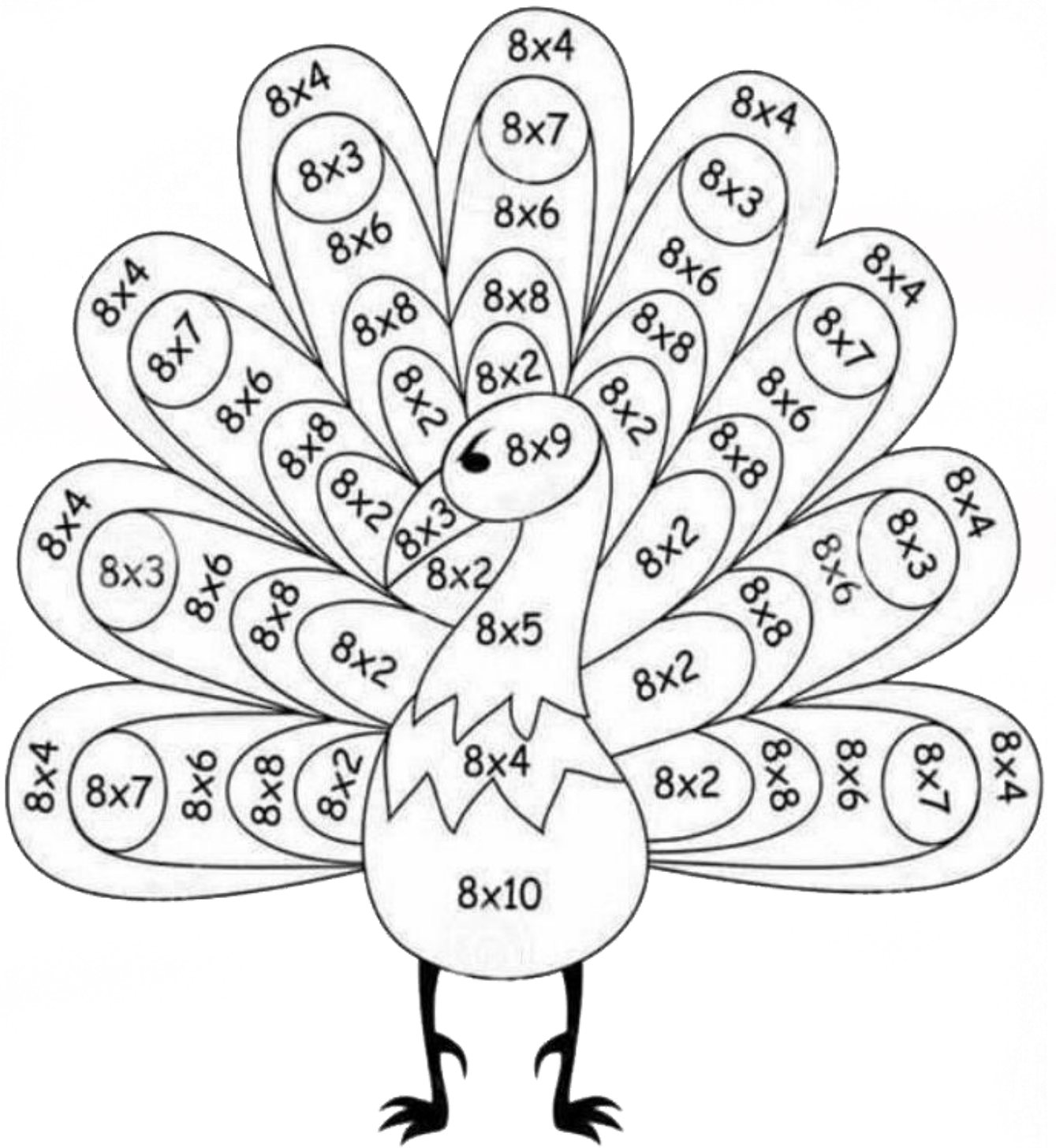
.....









.....

.....

.....





- | | | | | | | | | |
|---|---|---|---|---|--|---|---|---|
|  |  |  |  |  |  |  |  |  |
| 16 | 24 | 32 | 40 | 48 | 56 | 64 | 72 | 80 |

امام علی علیه السلام درباره
عید سعید فطر فرمودند:
این عید کسی است که خداوند،
روزه او را پذیرفته و عبادتش را
قبول کرده است و هر روزی که
در آن معصیت نشود آن
روز عید است.



خداوندا تو را شاکریم
که یک ماه میهمان تو بودیم
و این اجازه را به ما دادی تا سحرها
عاشقانه با تو سخن بگوئیم و اکنون روز اول
شوال را بر ما عید گرداندی
عید سعید فطر به روزه اولی ها مبارک باد

دخترم به همین مناسبت می خواهیم مهمانی کوچکی تدارک بینیم که با دستان کوچک و پر مهر شما درست شده باشد.
می توانی اهل خانه را به اتاق خود دعوت کنی تا در کنار هم این روز خجسته و مبارک را جشن بگیرید.
مواد لازم:

* ۲ فنجان آرد سفید	* ۱ و ۱/۲ فنجان شکر	* ۴/۳ فنجان روغن
* ۳ عدد تخم مرغ	* ۱ فنجان شیر	* ۲ قاشق چای خوری وانیل
* ۱ قاشق چای خوری پودر کاکائو	* ۱ قاشق چای خوری بیکینگ پودر	* ۲/۱ قاشق چای خوری نمک

روش تهیه:

- ۱- ابتدا فر را به دمای ۱۸۰ درجه سانتی گراد گرم کنید.
- ۲- سه عدد تخم مرغ را با یک فنجان شکر به همراه وانیل در یک کاسه بزرگ مخلوط کنید و تا زمانی که مخلوط شیرین و ضخیم شود، با میکسر یا مخلوط کن بزرگ هم بزنید.
- ۳- به ترتیب پودر کاکائو، آرد، بیکینگ پودر و نمک را با هم مخلوط کنید.
- ۴- در کاسه حاوی تخم مرغ، روغن را اضافه کنید و هم بزنید تا مواد کاملاً ترکیب شوند.
- ۵- به تدریج، مخلوط خشک را به مخلوط تخم مرغ اضافه کنید و به مدت دو دقیقه با میکسر یا مخلوط کن بزرگ هم بزنید تا تمام مواد به خوبی ترکیب شوند.
- ۶- قالب کیک را با آرد و روغن یا کاغذ پوشانده و مخلوط را به داخل قالب ریخته و صاف کنید.
- ۷- قالب را در فر گرم شده قرار دهید و به مدت ۳۵ تا ۴۰ دقیقه پخته شود، برای اطمینان از پخته شدن کامل کیک قبل از خارج کردن کیک از فر، با یک خلال دندان، بر روی سطح کیک فشار دهید. اگر مواد کیک به آن نچسبید، کیک پخته است و می توان آن را از فر خارج کرد. در غیر این صورت، کیک را برای چند دقیقه دیگر در فر گذاشته و سپس دوباره بررسی کنید.
- ۸- کیک را به مدت چند دقیقه در قالب خود خنک کنید، سپس از قالب خارج کرده و بر روی یک سطح صاف و پهن قرار دهید تا به طور کامل خنک شود.
- ۹- می توانید کیک را با خامه شکلات یا پودر قند تزیین کنید.



عزیزم برای مزین شدن کیک
از تصویر زیر استفاده کن آن را روی کاغذ روغنی یا ورقه‌ی آلومینیوم بگذار.
نخست شکلات را آب کرده سپس به آرامی روی نوشته را با آن رنگ کن.
حالا داخل یخچال قرار بده تا شکلات سفت شود
و به راحتی آن را از ورقه جدا کن و روی کیک که تزئین کرده ای بگذار.

نوش جان

گل من، برایم بنویس در این فعالیت:

📍 برای به حرکت درآوردن اجسام به چه چیزی نیاز داری؟

📦 از کدام گروه مواد غذایی استفاده کردید؟ و چه ویژگی برای بدن ما دارند؟

🔄 مواد چه حالتی داشتند و سپس به چه حالتی تبدیل شدند؟

👩‍🍳 هنگام شکستن تخم مرغ از چه نیرویی و در چه جهتی استفاده کردید؟

📍 می توانی بگویی چه چیزی باعث شد تا وقتی تخم مرغ را شکستی داخل ظرف بیفتد؟

راستی با ارسال عکس از این کیک خوشمزه و زیبا خوشحالم می کنی.

آرزو می کنم کنار خانواده شبی عالی و پر از اتفاقات خوب داشته باشید.





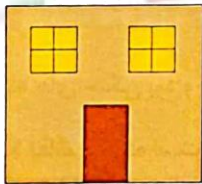
دوازدهم فروردین
۲ شوال




حکمت دوازدهم نهج البلاغه
ناتوان ترین مردم کسی است که
از دوست یابی ناتوان است و
ناتوان تر از او کسی است که
دوستان خود را از دست بدهد.

در شهرها و روستاها زنان چگونه می توانند به درآمد خانواده کمک کنند؟

سقف خانه های شمال کشور و خانه های تهران را بکش و بنویس چرا با هم فرق می کند؟



خانه‌ی تهران



خانه‌ی شمال

به نظر شما چرا باید زباله‌ها را بازیافت کرد؟

.....
.....
.....
.....
.....

برای حفظ منابع طبیعی ۲ راه پیشنهاد بده.



- به وسایل یا خوراکی‌ها که این روزها استفاده می‌کنی خوب دقت کن.
- آیا می‌توانی بگویی که هر کدام از آن‌ها با چه منابع طبیعی مرتبط است؟ (۱۰ مورد)
- زغال جوجه کباب ← چوب درخت ← درختان ← گیاهان
- نیمره ← تخم مرغ ← مرغ ← حیوانات





Find The words And pictures

سیزدهم فروردین
۳ شوال

Ball



Cat



Apple

Duck

Elephant

Flower

Girl

Home

Kite

Laptop

Moon

Nose

Octopus

Panda

Quran

Rainbow

Snake

Tiger

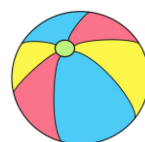
Umbrella

Van

Window

Yellow

Zebra



دلبندم کلمات هم معنی را رنگ کنید.



روزه اولی من
امیدوارم با جمع کردن هفت سین نوروزیت:
قرآش نگهدارت باشد، آینه ی سفره ات روشنایی به
زندگیت، سکه برکت به عمرت، سبزه اش طراوت و شادی
به دلت هدیه بدهد.

هنرمند نقاش

موضوع نقاشی: سیزده بدر






نظریه‌ی ولی :

نظریه‌ی دانش‌آموز :

نظریه‌ی معلم :



کلاس سوم

دبستان دخترانه امام علی (ع)

نوروز ۱۴۰۴